

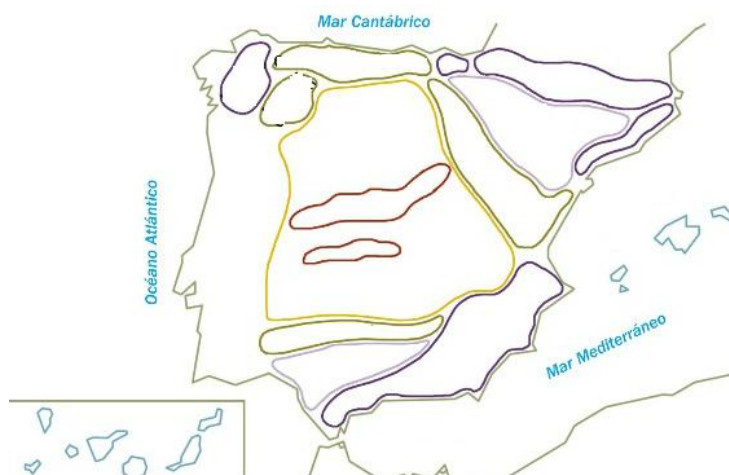
# Ficha de trabajo TEMA 1: EL RELIEVE PENINSULAR

## a) OBJETIVOS

1. Distinguir las singularidades del espacio geográfico español estableciendo los aspectos que le confieren unidad y los elementos que ocasionan diversidad.
2. Describir los rasgos del relieve español, situando y analizando sus unidades de relieve.
3. Definir el territorio español subrayando las diferencias de las unidades morfo-estructurales.
4. Diferenciar la litología de España diferenciando sus características y modelado.
5. Utilizar correctamente el vocabulario específico de la geomorfología.
6. Buscar y seleccionar información del relieve obtenido de fuentes diversas: bibliográficas, cartográficas, Internet o trabajos de campo, presentándola de forma adecuada y señalando los condicionamientos que el relieve puede imponer.
7. Identificar las características edáficas de los suelos.

## b) EJERCICIOS

- 1.1. En el siguiente mapa **sitúa las unidades del relieve español** y realiza un comentario del mismo sintetizando sus rasgos característicos.



- 2.1. Completa el siguiente mapa físico y realiza un comentario comparando los elementos del relieve en España, destacando similitudes y diferencias entre el territorio peninsular e insular.

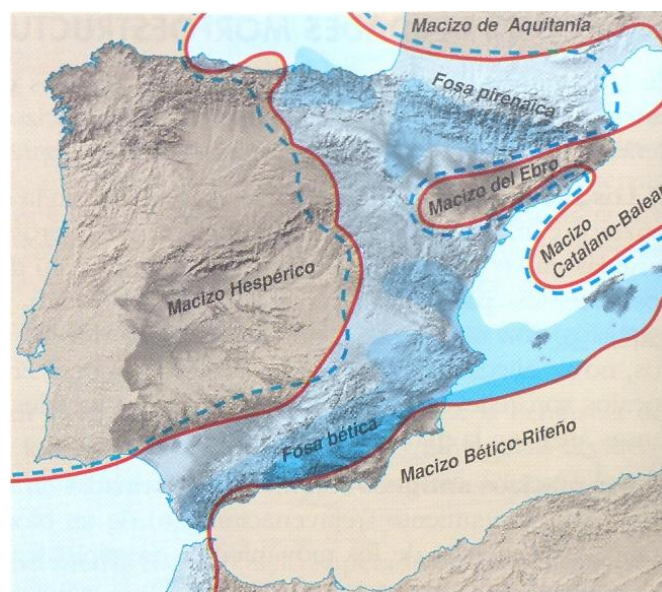


3.1. Elabora un cuadro-resumen sintetizando los **principales rasgos del relieve de España, señalando las diferencias morfoestructurales.**

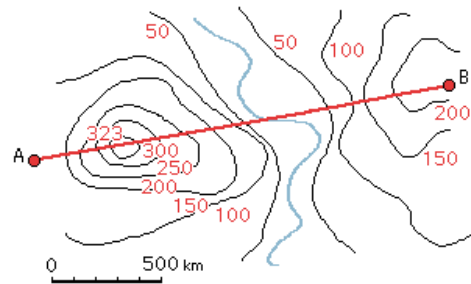
| Generalidades                      | Cronología   | Materiales | Estructura | Formas actuales |
|------------------------------------|--|------------|------------|-----------------|
|                                    |  |            |            |                 |
| <b>UNIDADES MORFOESTRUCTURALES</b> | <b>ZÓCALOS</b>   |            |            |                 |
|                                    | <b>Macizos antiguos</b>  |            |            |                 |
|                                    | <b>Cordilleras de plegamiento</b><br>- Intermedias<br><br>- Alpinas      |            |            |                 |
|                                    | <b>Cuencas sedimentarias</b><br>- Zócalo<br><br>- Depresiones prealpinas |            |            |                 |

4.1. Elabora un **esquema de las unidades del relieve español** atendiendo a sus características **geomorfológicas.**

5.1. Analiza el siguiente mapa señalando la **evolución geológica y conformación del relieve** en España.

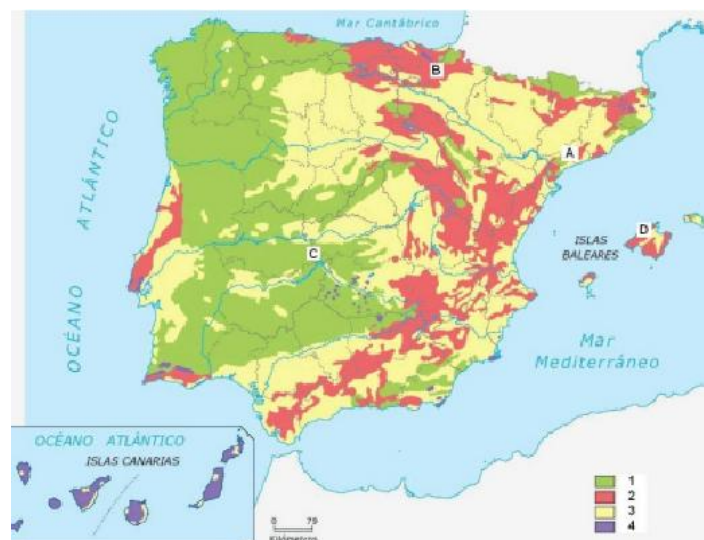


6.1. En siguiente mapa **elabora el perfil topográfico** y realiza un comentario, explicando el relieve que refleja.



7.1. Elabora un **cuadro comparativo** con los elementos constitutivos de los diferentes **tipos de suelo de España**.

7.2. En el siguiente mapa señala los distintos **tipos de suelos peninsulares e insulares**.



**8. Define:** macizo, páramo, relieve cárstico, albufera, delta, tómbolos, relieve apalachense, cerro testigo, antecerro, berrocal, glaciar de valle, circo, horst, anticlinal.

**c) Para saber más:** Investiga: ¿Dónde está la **Ciudad Encantada**? ¿Qué tipo de roquedo lo caracteriza? ¿Por qué se ha convertido en una atracción turística?

#### **d) CRITERIOS DE EVALUACIÓN**

- 1.1. Dibuja y señala sobre un mapa físico de España las unidades del relieve español, comentando sus características.
- 2.1. Identifica y representa en un mapa los elementos del relieve que son similares y diferentes del territorio peninsular e insular.
- 3.1. Enumera y describe los principales rasgos del relieve de España.
- 4.1. Clasifica las unidades del relieve español según sus características geomorfológicas.
- 5.1. Describe someramente en un mapa la evolución geológica y conformación del territorio español.
- 6.1. Realiza un corte topográfico y explica el relieve que refleja.
- 7.1. Enumera y describe los elementos constitutivos de los diferentes tipos de suelo de España.
- 7.2. Localiza en un mapa de España los distintos tipos de suelos peninsulares e insulares.